



munkafüzet

TÖRTÉNELEM

A hidegháború korától napjainkig

8



Horváth Levente Attila

TÖRTÉNELEM

Munkafüzet

A hidegháború
korától napjainkig

8

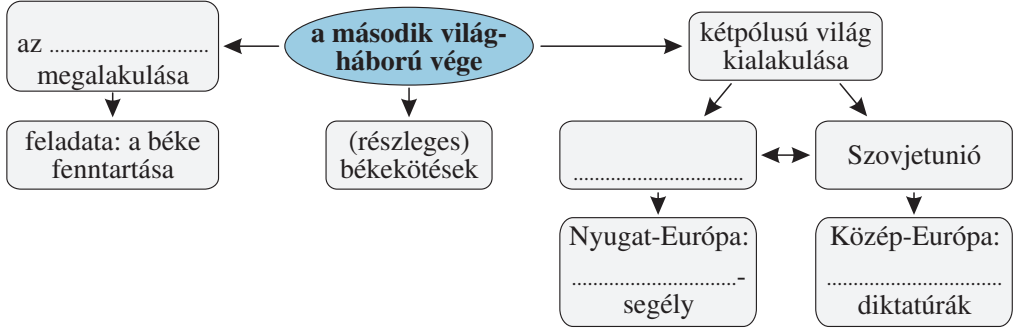


Negyedik, változatlan kiadás
Mozaik Kiadó – Szeged, 2019

A KÉTPÓLUSÚ VILÁG

1. A kétpólusú világ kialakulása

1. Egészítsd ki a gondolattérképet!



2. Karikázd be az alábbi országok közül azoknak a betűjelét, amelyek vétőjogot kaptak az ENSZ Biztonsági Tanácsában!

- a) Olaszország; d) Nagy-Britannia; g) USA;
 b) Németország; e) Japán; h) Lengyelország
 c) Belgium; f) Szovjetunió;

3. A következő feladat a második világháború utáni határváltozásokkal kapcsolatos. Írd be a felsorolt országok betűjelét a táblázatba!

- a) Szovjetunió; b) Németország; c) Lengyelország; d) Észtország

területeket veszített	területeket kapott	egy másik ország részévé vált

4. Fejtsd meg a betűrejtvényt! A négyzetben lévő betűket helyes sorrendben összeolvasva egy mondatot kapsz. Írd le a megfejtést!

.....

O	M	L	E	T	T
L	A	T	A	H	R
Ó	S	Z	U	P	E
I	N	U	T	E	J
S	A	S	Z	O	V
É	A	S	U	Z	A

5. Összekevertük két nemzetközi szervezet nevének betűit. Válaszd szét őket!

A Z S T E N N O

- a); b)

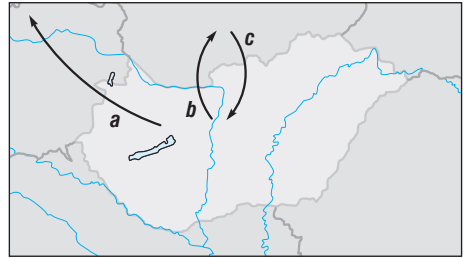
MAGYARORSZÁG A SZOVJET TÁBORBAN

9. Újrakezdés a háború után

1. Karikázd be azoknak a feladatoknak a betűjelét, amelyek a második világháború után megoldásra vártak Magyarországon!

- a) a háborús károk helyreállítása; d) a politikai rendszer demokratizálása;
 b) együttműködés az angol megszállókkal; e) földreform;
 c) az infláció megfékezése; f) az államforma kérdésének rendezése

2. A térkép a második világháború utáni népmozgásokat ábrázolja. Írd a betűk mellé, hogy mely népcsoportokat jelölik!



- a);
 b);
 c)

3. A táblázat az 1945-ben földhöz jutottak megoszlását mutatja társadalmi rétegződésük szerint.

Összesen hány hold földet osztottak ki?

.....
 Melyik rétegnek osztották ki a legtöbb földet?

.....
 Melyik réteg kapta egy főre jutó átlagban a legnagyobb földterületet?

	földet kapott (ezer fő)	kiosztott terület (ezer hold)	egy főre jutó átlag (hold)
gazdasági cseléd	109,9	922,3	8,4
földmunkás	261,1	1288,5	4,9
törpebirtokos	213,9	829,5	3,9
kisbirtokos	32,8	143,1	4,4
iparos	22,2	53,9	2,4
képesített gazda	1,3	14,5	11,6
erdészeti dolgozó	1,2	7,0	6,0
összesen	642,4	3258,8	5,1

4. Milyen pénzzel fizettek Magyarországon az alábbi történelmi események idején?

- a) az őszirózsás forradalom kitörésekor:;
 b) a nagy gazdasági válság idején:;
 c) a NATO megalakulásakor:

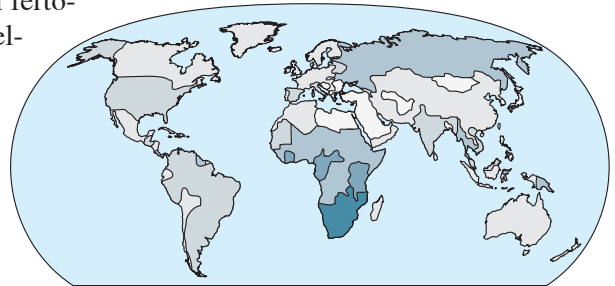
MAI VILÁGUNK TÖRTÉNETE

18. A globális világ fő sajátosságai

1. Karikázd be azoknak a jelenségeknek a betűjelét, amelyek a globalizációra jellemzőek!
 - a) A termelés világméretűvé vált.
 - b) A világkereskedelemben egyre inkább óriásvállalatok kereskednek egymással.
 - c) Az egyes országok függetlensége megerősödik.
 - d) Kölcsönös függés jött létre a világ országai között.
 - e) A kulturális szokások is egyre hasonlóbbá kezdenek válni a világon.
 - f) Az emberek ugyanolyan árut fogyasztanak a világ minden részén.
 - g) Ha bárhol történik valami a világban, arról napokon belül tudomást szerzünk.

2. A térkép vázlat az AIDS vírussal fertőzöttek számarányát ábrázolja a felnőtt lakosság körében. Tanulmányozása után válaszolj a kérdésekre!

A világ melyik részén a legelterjedtebb a betegség?



.....
Európában vagy Dél-Amerikában magasabb a fertőzöttek aránya?

Sorolj fel néhány területet, ahol alacsony a fertőzöttek aránya!

3. Igaz vagy hamis? Írj az állítások elé I betűt, ha igaznak, H betűt, ha hamisnak találsz!

..... A globalizáció során létrejött óriáscégek gyermekmunkásokat alkalmaznak.

..... A globalizáció egyik hatása az volt, hogy megszűnt a környezetszennyezés.

..... Sokan éheznek a fejlődő világban a népességrobbanás miatt.

..... A globalizáció hatása az is, hogy a járványok sokkal gyorsabban terjednek.

..... A hidegháború megnyerése után az USA-nak nem maradt ellenfele a világban.

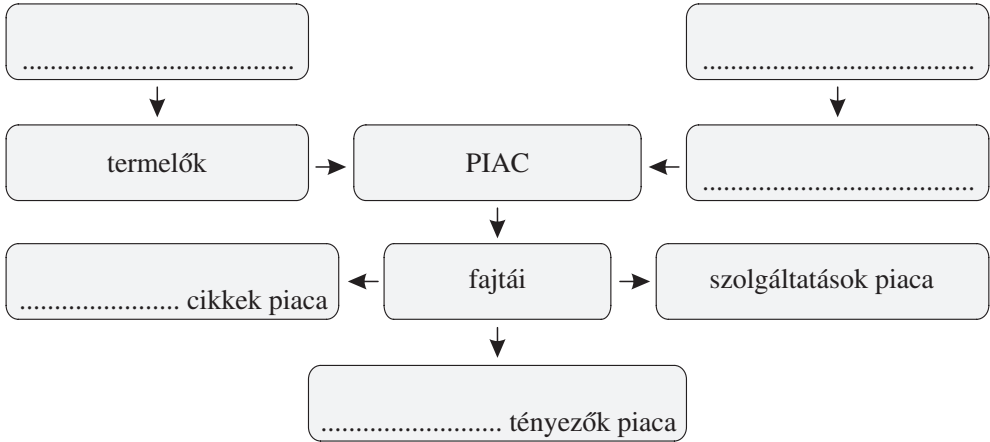
..... Az AIDS elsősorban cseppfertőzéssel terjed.

..... Kína a világ egyik leggyorsabban fejlődő állama.

GAZDASÁGI ISMERETEK

32. A gazdaság legfontosabb szereplői

1. Egészítsd ki a gondolattérképet!



2. Tételezzük fel, hogy egy pékség tulajdonosa vagy! Mit teszel az alábbi esetekben? Írd le röviden!

a) Azt tapasztalod, hogy a pozsonyi kifli mindig korán elfogy.

.....

b) A sóskifli egy része mindennap megmarad.

.....

c) Szeretnéd növelni a vásárlók körét.

.....

.....

3. Milyen gazdasági szerepkörben jelennek meg a szüleid a lenti példákban? Írd a példák mellé!

a) Édesapád bemegy a bankba, hogy az új lakás vásárlásához kölcsönt vegyen fel.

.....

b) Édesanyád a boltban tejet, kenyeret és szalámit vásárol.

.....

c) Édesapád új munkahelyen kezd el dolgozni.

.....

d) Édesapád a megspórolt pénzeszközöket lekötötte a bankban.

.....

e) Édesanyád önkéntes munkát végez a Máltai Szeretetszolgálatnál.

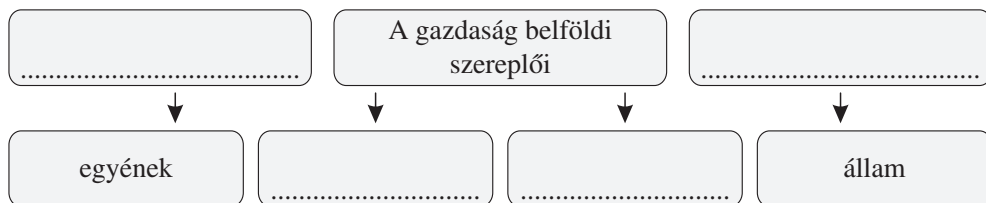
.....

4. Keresd otthon importból származó termékeket! Írj néhány példát ezekből!

.....

.....

5. Egészítsd ki az ábrát!



6. Igaz vagy hamis? A következő állításokról dönts el, hogy igazak-e! Karikázd be az igaz állítások utáni betűjelet! Ha ezeket fordított sorrendben összeolvasod, egy értelmes szót kapsz.

- A piac működését a kereslet és a kínálat egymásra hatása szabályozza. (T)
- A kereslet a vásárlási szándék, amely mögött a vásárlásra elegendő pénz is van. (R)
- Ha csökken a kereslet, akkor emelkedik az ár. (I)
- Ha csökken a kereslet, akkor csökken az ár. (O)
- A fogyasztók igényei befolyásolják a kínálatot. (P)
- A háztartásba minden rokon beletartozik. (Y)
- A háztartásba azok tartoznak, akik az életviteli költségeket közösen fedezik. (X)
- A háztartás nem azonos a családdal. (E)
- Ha egy termék árát a piacon a termelő nagyon megemeli, akkor biztosan nagyobb lesz a haszon, mert magasabb árak mellett a fogyasztók többet vásárolnak. (A)

A megfejtés:

Mit jelent ez a szó?

.....

TARTALOM

Év eleji ismétlés	3	22. A harmadik magyar köztársaság húsz éve	34
A KÉTPÓLUSÚ VILÁG		23. Kisebbségek a határon innen és túl	35
1. A kétpólusú világ kialakulása	5	Összefoglalás	36
2. A hidegháború kibontakozása	6	A TÁRSADALMI ÉLET SZABÁLYAI, ÁLLAMPOLGÁRI ISMERETEK	
3. Az Európán kívüli világ	7	24. Szokás, hagyomány, illem, erkölcs	40
4. Enyhülés és szembenállás	8	25. Jogok és kötelességek	41
5. A hidegháború vége	9	26. Egyenlőség és egyenlőtlenség a társadalomban	42
6. A gazdasági növekedés kora	11	27. Az állam és az alkotmány	43
7. Az olajválság és a globalizálódás kezdete	12	28. A politikai rendszer	44
8. Társadalmi változások	13	29. Politikai intézményeink	45
Összefoglalás	14	30. Választási rendszerünk	46
MAGYARORSZÁG A SZOVJET TÁBORBAN		31. Emberi és állampolgári jogok	47
9. Újrakezdés a háború után	17	Összefoglalás	48
10. Magyarország szovjetizálása	18	GAZDASÁGI ISMERETEK	
11. A Rákosi-diktatúra	19	32. A gazdaság legfontosabb szereplői	50
12. Az „új szakasz” és kudarca	20	33. A pénz funkciói és formái	52
13. Az 1956-os forradalom	21	34. Pénzintézetek és tevékenységük	53
14. Megtorlás és konszolidáció	23	35. A család bevételei és kiadásai	54
15. Kádár reformjai és rendszerének válsága	24	36. Takarékoság a háztartások fogyasztásában	55
16. Társadalom és kultúra. A mindennapi élet	25	37. Pénzkezelési technikák	56
17. A rendszerváltás kezdete	26	Összefoglalás	57
Összefoglalás	27	A MÉDIA VILÁGA	
MAI VILÁGUNK TÖRTÉNETE		38. A „szájber világ”	60
18. A globális világ fő sajátosságai	30	39. „Mindennapi médiánkat add meg nekünk ma!”	61
19. Háborúk és válságócok az ezredfordulón	31	40. A hír szent, a vélemény szabad	62
20. Az Európai Unió létrejötte és működése	32	41. A reklám	63
21. A demokratikus jogállam megteremtése házánkban	33		

Kiadja a Mozaik Kiadó, 6723 Szeged, Debreceni u. 3/B., Tel.: (62) 470-101, Fax: (62) 554-666

E-mail: kiado@mozaik.info.hu • Honlap: www.mozaik.info.hu • Felelős kiadó: Török Zoltán

Műszaki szerkesztő: Katona Csaba, Kovács Attila, Nagy Zoltán

Készült az Innovariant Kft.-ben, Szegeden • Felelős vezető: Drágán György

Terjedelem: 5,72 (A/5) ív • Tömeg: 96 g • 2019. július • Raktári szám: MS-2858U